

図形数え

実施日	かかった時間
・	分

記憶力

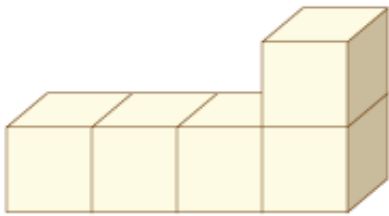
言語能力

計算能力

判断力

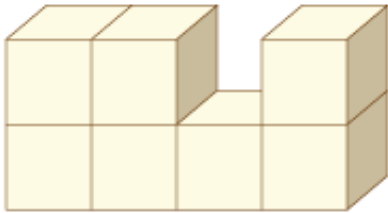
遂行力

積まれている箱の数を教えてください。
正面からは見えない、裏側に積まれている部分も含みます。



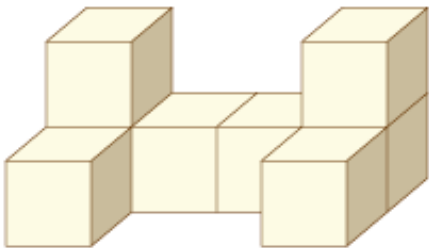
箱の数はいくつですか？

5個



箱の数はいくつですか？

7個



箱の数はいくつですか？

8個

